

Électricité 0		CAP ECMS
S 1	Risques électrique	

Compléter ce tableau

Image	Risque pour qui ? (cocher la bonne case)		Que risque-t-il de se passer ? (Répondre par une phrase)	Que faut-il faire pour éviter le danger ? (Répondre par une phrase)
	La personne	L'appareil		
1				
2				
3				
4				
5				
6				
7				



Image 1



Image 2

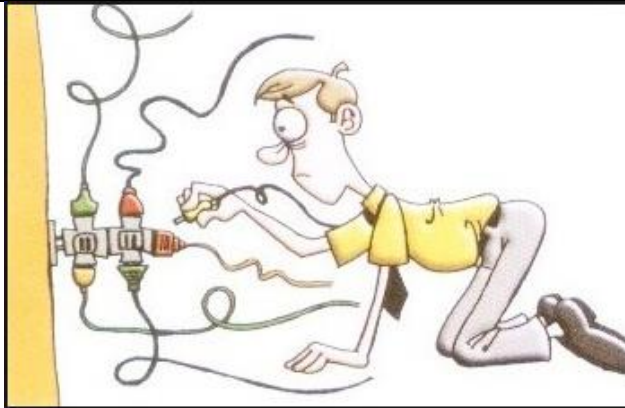


Image 3



Image 4




Image 5

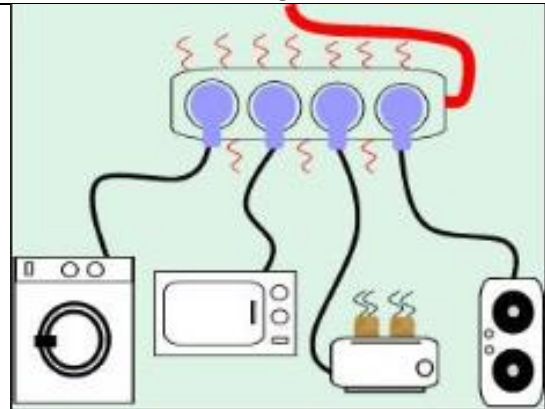


Image 6

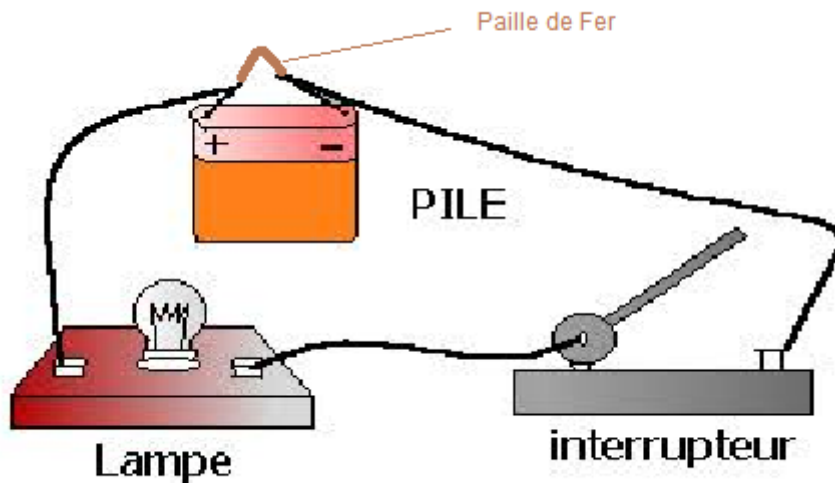


Image 7

I.

Expérience de la paille de fer

Montage



Vidéo : <https://www.youtube.com/watch?v=9hVgA4dBKBg>

Répondre aux questions en faisant des phrases.

Que s'est-il passé ?

Pourquoi, d'après vous ?

Quelles sont, selon vous, les moyens mis en place pour éviter que cela arrive chez vous ?

Compléter le tableau à l'aide des vidéos

Vidéo : <https://www.youtube.com/watch?v=D-x2y1gR-ew&t=33s>

<https://www.youtube.com/watch?v=4ID92VXEKKA&t=231s>

Image	Nom	Rôle (répondre par des mots)
	Fusible	
	Disjoncteurs (divisionnaires)	
	Prise de Terre	
	Disjoncteurs différentiels	